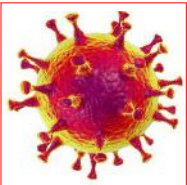


3. Newsletter der OGS Donauwörth

Aktuelle Zahlen zur Coronakrise



Coronavirus

Imago/Science
Photo Library

⇒ **Deutschland** 12. Juni 2020: 188232 infizierte Menschen, davon 2288 Neuinfektionen und 8955 Todesfälle. 171897 sind inzwischen wieder gesund. Im Landkreis **Donau-Ries** gibt es zurzeit 353 an Corona erkrankte Menschen, 328 sind wieder genesen, nur 1 aktiver Fall ist aufgetreten. Die wöchentliche Neuansteckung liegt bei 0 Personen, 24 sind inzwischen gestorben.

⇒ Laut Robert-Koch-Institut steckt zurzeit in Deutschland **ein** mit dem Coronavirus infizierter Mensch im Schnitt **einen** weiteren Menschen an.

⇒ Derzeitige Beschränkungen: Maskenpflicht in Geschäften, beim Friseur, in Bus und Bahn, in Schulen u. a. Einhalten des Mindestabstandes von 1,5 m zu anderen Personen.



Echte Freundschaft in schlimmen Zeiten

Was macht eine echte Freundschaft aus?

- Ich kann über alles reden und weiß, dass vertraute Informationen nicht weiter erzählt werden. Ein wahrer Freund erzählt nie Schlechtes über mich.
- Man bleibt befreundet, auch wenn man sich länger nicht sieht.
- Wahre Freunde können auch miteinander streiten, aber ohne sich gegenseitig zu beleidigen, zu provozieren und zu beschimpfen.
- Das Verzeihenkönnen gehört auch zu einer echten Freundschaft.
- Kritik und offene Worte werden toleriert, sie sind sogar erwünscht.
- Man kann sich gegenseitig so geben, wie man ist, und braucht sich nicht verstellen oder einander etwas vormachen.
- Jeder weiß vom anderen, wie er denkt bzw. wie er fühlt.
- Wahre Freunde sind vor allem in Zeiten da, wenn es mal nicht so gut läuft. Sie bauen einander auf, motivieren, unterstützen und bieten Halt.



Tolle Vorlagen zum Ausmalen und Gestalten



Rätsel • Denkaufgaben • Rätsel • Denkaufgaben • Rätsel • Denkaufgaben

Buchstabenrätsel

Dort sind elf Namen von Tieren versteckt, die du im Bild unten siehst. Finde sie heraus. Die Wörter sind waagrecht und senkrecht und auch gegen die Leserichtung angeordnet. Male die Tiere farbig an.


G	F	X	Q	S	H	E	U	S	C	H	R	E	C	K	E	D	E
K	R	E	U	Z	O	T	T	E	R	H	L	V	K	I	I	A	A
T	O	L	A	S	I	E	E	S	T	M	W	A	R	D	L	C	T
R	S	E	L	P	S	R	R	S	O	N	H	E	A	N	Z	H	N
E	C	M	L	E	A	L	I	B	E	L	L	E	B	I	E	S	E
I	H	M	E	C	N	N	S	R	R	H	O	L	B	W	A	S	D
D	I	U	H	H	I	R	S	C	H	K	Ä	F	E	R	E	L	O
E	T	H	G	T	G	N	I	L	R	E	T	T	E	M	H	C	S

Was ist das?

Verbinde die Zahlen in der richtigen Reihenfolge.



Nach: www.raetseldino.de



Kannst du logisch denken?


Ein Gebäude mit vier Etagen verfügt über einen Aufzug. Im Erdgeschoss wohnt nur eine Person. Die Zahl der Bewohner verdoppelt sich von Etage zu Etage. Welche Aufzugstaste wird am häufigsten gedrückt, die vom Erdgeschoss, vom 1. Stock, 2. Stock oder 3. Stock?

Luisa erhält zu ihrem ersten Geburtstag 1 Cent. Ihr Vater verspricht, diesen Betrag jährlich bis zum 21. Geburtstag jeweils zu verdoppeln. Luisa ist enttäuscht. Hat sie Grund dazu? Schätze zuerst. Rechne dann.

Rätsel • Denkaufgaben • Rätsel • Denkaufgaben • Rätsel • Denkaufgaben

Wer steht wo?

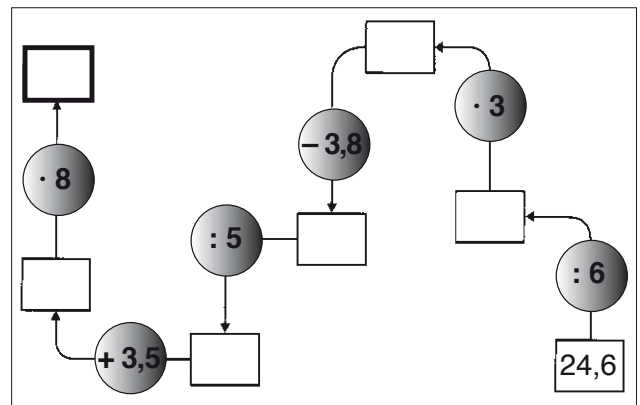
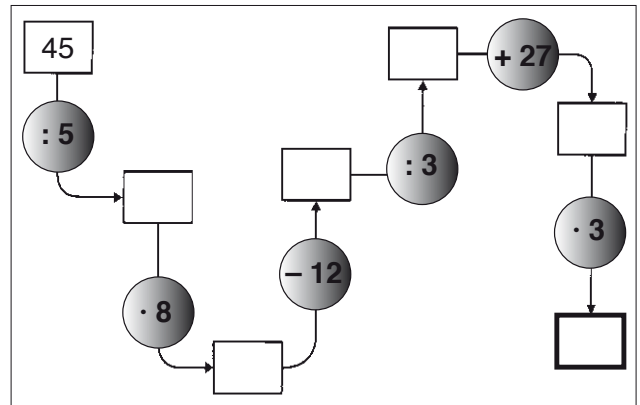
So sieht das OGS-Team aus der Sicht einer zeitgenössischen Künstlerin aus. Vielfach werden dabei Personen etwas verfremdet dargestellt. Man beachte den Arm von Person Nummer 7. Welche Person passt zu welcher Ziffer? Lösung folgt im Newsletter 4.



Du hast die freie Wahl:

Frau Haunstetter, Frau Issa, Frau Braun, Frau Probst, Frau Baumann-Klopfer, Frau Fich, Frau Schneid, Frau Radvanski, Frau Pfahler, Herr Seyler

Kettenrechnen



Kopfrechnen

Notiere die Zwischenergebnisse. Bist du fit, rechne alles im Kopf.

- $7 \cdot 7 / - 19 / + 36 / : 2 / = \underline{\quad ? \quad}$
- $45 \cdot 3 / + 45 / - 150 / : 6 / = \underline{\quad ? \quad}$
- $1,2 + 0,8 / \cdot 2 / + \underline{\quad ? \quad} = 17$
- $18 - 2 / : 2 / + 27 / \cdot 2 / + \underline{\quad ? \quad} = 200$

Lösungen: Rätsel und Denkaufgaben von Newsletter 2

Tickst du noch richtig?

Summe aller Ziffern: 78

Summe der Ziffern in einer der drei Teilflächen: $78 : 3 = 26$

$$11 + 12 + 1 + 2 = 26$$

$$9 + 10 + 3 + 4 = 26$$

$$8 + 7 + 6 + 5 = 26$$



Wer hat recht?

Tina hat recht, im ungünstigsten Fall könnte man nacheinander vier blaue Murmeln ziehen. Erst die fünfte Murmel wäre dann eine gelbe. **Paul hat nicht recht**, die zwei Murmeln könnten beide gelb oder blau sein. **Rolf hat nicht recht**, die vier Murmeln könnten alle blau sein.

Was tun Katzen wirklich?

Richtig sind nur zwei Aussagen.

- Übergewichtige Katzen fangen gerne Mäuse.
- Alle wasserscheuen Katzen fangen gerne Mäuse.



Lösung: Suchaufgabe von Newsletter 2

26 Hamster

